



РАБОЧАЯ ПРОГРАММА

дисциплины

«Гидравлика»

Направления подготовки

18.03.01 Химическая технология

Профиль

«Химическая технология органических веществ»

Квалификация

Бакалавр

1. Цели и задачи дисциплины

Целью изучения дисциплины «Гидравлика» является формирование, необходимой начальной базы, знаний о законах равновесия и движения жидкостей и газа, приобретение студентами навыков расчета сил, действующих на стенки резервуаров, гидравлического расчета трубопроводов различного назначения для стационарных и нестационарных режимов течения жидкостей, решения технологических задач нефтегазового производства, задач борьбы с осложнениями и авариями, которые могут возникнуть в гидродинамических системах. Изучение дисциплины позволяет сформировать у студентов комплекс знаний, необходимых для решения производственно-технологических, научно-исследовательских, проектных и эксплуатационных задач отрасли, в том числе связанных с построением проектов разработки машиностроительных производств и ремонтных цехов и участков различных отраслей промышленности, оценки параметров течения в технологических процессах машиностроительного производства.

2. Место дисциплины в структуре образовательной программы:

Учебная дисциплина «Гидравлика» относится к вариативной части математического и естественнонаучного цикла в учебном плане ОП направления 18.03.01 «Химическая технология» и предусмотрена для изучения в I семестре. В теоретико-методологическом и практическом направлении она тесно связана со следующими дисциплинами учебного плана: Математика, Физика, Информатика, Метрология, общая химическая технология, процессы и аппараты химических производств, химическая технология топлива и газа, нефтехимический синтез и др.

3. Требования к результатам освоения дисциплины.

В процессе освоения данной дисциплины студент формирует и демонстрирует следующие компетенции

- способностью и готовностью осуществлять технологический процесс в соответствии с регламентом и использовать технические средства для измерения основных параметров технологического процесса, свойств сырья и продукции (ПК-1);

- использовать знания основных физических теорий для решения возникающих физических задач, самостоятельного приобретения физических знаний, для понимания принципов работы приборов и устройств, в том числе выходящих за пределы компетентности конкретного направления (ПК-19).

В результате освоения учебной дисциплины «Гидравлика» студент должен:

знать:

- основные физико-механические свойства жидкости и силы, действующие в жидкости;
- свойства гидростатического давления, и основные законы движения жидкости;
- назначение и классификацию трубопроводов;
- методы гидравлического расчета и проектирования трубопроводов;
- законы истечения жидкости через отверстия и насадки;
- виды и режимы движения жидкости;
- общие законы и уравнения статики и динамики жидкостей;
- существующие гидравлические и пневматические системы;
- законы движения и равновесия жидкостей;
- особенности конструкции и расчеты на безопасность, прочность, надежность и производительность различных гидравлических схем.

уметь:

- применять основные уравнения гидростатики и гидродинамики жидкости;
- осуществить гидравлический расчет простого и сложного трубопроводов;
- применять уравнение динамического равновесия равномерного потока;
- применять формулы для определения коэффициента гидравлического сопротивления;
- применять общие законы и уравнения статики и динамики жидкостей, законы движения и равновесия жидкостей;

- осваивать существующие гидравлические и пневматические системы;
- проводить расчеты на безопасность, прочность, надежность и производительность различных гидравлических схем с учетом особенности конструкции и условий применения системы.

владеть:

- методами исследования движения жидкости;
- методами гидравлического расчета и проектирования трубопроводов;
- формулами для определения коэффициента гидравлического сопротивления;
- основными расчетными формулами для определения потерь напора;
- законами и уравнениями статики и динамики жидкостей;
- существующими гидравлическими и пневматическими системами;
- законами движения и равновесия жидкостей;
- особенностями конструкции и расчетами на безопасность, прочность, надежность и производительность различных гидравлических схем.

4. Объем дисциплины и виды учебной работы

Таблица 1

Вид учебной работы	Всего часов/зач.ед.		Семестры	
			6	6
	ОФО	ОЗФО	ОФО	ОЗФО
Контактная работа (всего)	34/0,94	34/0,94	34/0,94	34/0,94
В том числе:				
Лекции	17/0,47	17/0,47	17/0,47	17/0,47
Практические занятия				
Семинары				
Лабораторные работы	17/0,47	17/0,47	17/0,47	17/0,47
Самостоятельная работа (всего)	74/2,06	74/2,06	74/2,06	74/2,06
В том числе:				
Курсовая работа (проект)				
Расчетно-графические работы	18/0,5	18/0,5	18/0,5	18/0,5
ИТР				
Рефераты				
Доклады				
<i>И(или) другие виды самостоятельной работы:</i>				
Подготовка к лабораторным работам	20/0,56	20/0,56	20/0,56	20/0,56
Подготовка к практическим занятиям				
Подготовка к зачету, экзамену	36/1,0	36/1,0	36/1,0	36/1,0
Вид отчетности	Экзамен	Экзамен	Экзамен	Экзамен
Общая трудоемкость дисциплины	Всего: в часах	108	108	108
	Всего: в зачетных единицах	3	3	3

5. Содержание дисциплины

5.1.1 Разделы дисциплины и виды занятий

Таблица 2.1

№ п/п	Наименование раздела дисциплины	Часы лекционных занятий	Часы лабораторных занятий	Часы практических (семинарских) занятий	Часы самост. работы	Всего часов
1	Основные физические свойства жидкости	1	1			2
2	Гидростатика Силы давления жидкости	2	2			4
3	Кинематика и механика жидкости	2	2			4
4	Гидравлические потери	2	2			4
5	Режимы движения жидкости и основы гидродинамического подобия. Местные гидравлические сопротивления	2	2			4
6	Истечение жидкости через отверстия и насадки. Неустановившееся движение жидкости. Гидравлический удар	2	2			4
7	Гидравлический расчет трубопроводов.	2	2			4
8	Гидромашины	2	2			4
9	Центробежные насосы. Объемные насосы	2	2			4
	ВСЕГО:	17	17			34

5.2 Лекционные занятия

Таблица 3

№ п/п	Наименование раздела дисциплины	Содержание раздела
1	2	3
1	Основные физические свойства жидкости	Предмет гидравлики и гидромашин. Применение и значение гидравлики в современном машиностроении. Основные физические свойства жидкости. Поверхностное натяжение. Идеальная жидкость. Ньютоновские жидкости.
2	Гидростатика Силы давления жидкости	Свойство давления в неподвижной жидкости. Уравнение Эйлера равновесия жидкости. Поверхности равного давления. Основное уравнение гидростатики. Закон Паскаля. Силы давления жидкости на плоские и криволинейные стенки. Закон Архимеда. Плавание тел.
3	Кинематика и механика жидкости	Виды движения жидкости. Основные понятия кинематики жидкости. Поток жидкости. Средняя скорость. Уравнение расхода. Дифференциальное уравнение движения идеальной жидкости. Уравнение Бернулли для идеальной и реальной жидкости. Коэффициент Кориолиса.
4	Гидравлические потери	Общие сведения о гидравлических потерях. Виды гидравлических потерь. Трубка Пито, расходомер Вентури.
5	Режимы движения жидкости и основы гидродинамического подобия. Местные гидравлические сопротивления	Ламинарный и турбулентный режимы движения жидкости. Число Рейнольдса. Основы теории гидродинамического подобия. Потери напора в трубах. Формула Шероховатость стенок, абсолютная и относительная. Графики Никурадзе и Мурина. Основные виды местных сопротивлений. Коэффициент местных потерь. Местные потери напора при больших числах Рейнольдса. Внезапное расширение трубы (теорема Борда). Диффузоры. Колена.
6	Истечение жидкости через отверстия и насадки. Неустановившееся движение жидкости. Гидравлический удар	Истечение жидкости через отверстия в тонкой стенке. Коэффициенты сжатия, скорости, расхода. Истечение через насадки различного типа Истечение при переменном напоре. Неустановившееся движение несжимаемой жидкости в жестких трубах с учетом инерционного напора. Явление гидравлического удара. Формула Жуковского для прямого удара. Гидравлический удар в трубах.

1	2	3
7	Гидравлический расчет трубопроводов.	<p>Движение жидкости в напорных трубопроводах. Короткие трубопроводы постоянного диаметра. Основное расчетное уравнение простого трубопровода. Горизонтальная и вертикальная водопускные трубы. Сифонный трубопровод.</p> <p>Последовательное и параллельное соединение трубопроводов. Сложные трубопроводы. Трубопровод с насосной подачей. Взаимодействие струи с твердыми преградами. Силы воздействия потока на стенки. Расчет длинного трубопровода. Магистральные нефтепроводы.</p>
8	Гидромашины	<p>Общие сведения о гидромашинах. Насосы и гидродвигатели. Классификация насосов. Принцип действия динамических и объемных насосов. Основы теории подобия насосов. Основные параметры насосов. Лопастные насосы. Явление кавитации. Коэффициент быстроходности. Типы лопастных насосов. Применение формул подобия для пересчета характеристик насосов. Регулирование подачи. Последовательное и параллельное соединение насосов. Кавитация в лопастных насосах. Кавитационная характеристика. Кавитационный запас. Формула Руднева и ее применение.</p>
9	Центробежные насосы. Объемные насосы	<p>Центробежные насосы. Уравнение Эйлера. Схемы одноступенчатых центробежных насосов. Теоретический напор насоса. Полезный напор. Потери энергии в насосе. Характеристика центробежных насосов. Объемные насосы. Принцип действия, общие свойства и классификация. Поршневые и плунжерные насосы. Индикаторная диаграмма. Графики идеальной подачи и ее неравномерность. Диафрагменные насосы. Роторные насосы и гидродвигатели</p>

Лекционные занятия проводятся в форме лекций с использованием демонстрационных слайдов, презентаций и видеороликов, применяются информационные технологии. Проводится демонстрация конструкций элементов систем, схем. Перечень демонстрируемого материала и сами материалы представлены в ФОСах. Предусматривается самостоятельное выполнение отдельных иллюстраций в раздаточном материале.

5.3 Лабораторные занятия

Таблица 4

№ п/п	Наименование раздела дисциплины	Наименование лабораторных работ
1	Гидростатика Силы давления жидкости.	Измерение гидростатического давления и экспериментальное подтверждение закона Паскаля
2	Кинематика и механика жидкости.	Уравнение Бернулли. Определение опытным путем слагаемых уравнения Д. Бернулли.
3	Режимы движения жидкости и основы гидродинамического подобия.	Режимы движения жидкости. Экспериментальная иллюстрация ламинарного и турбулентного режимов движения жидкости, определение законов сопротивления критического числа Рейнольдса.
4	Местные гидравлические сопротивления.	Изучение гидравлических потерь по длине трубопровода и в местных сопротивлениях.
5	Истечение жидкости через отверстия и насадки.	Изучение истечения жидкости через малые отверстия и насадки в тонкой стенке при постоянном напоре в атмосферу.
6	Неустановившееся движение жидкости. Гидравлический удар.	Экспериментальное изучение прямого гидравлического удара в напорном трубопроводе
7	Центробежные насосы.	Параметрические испытания центробежного насоса.
8		Кавитационные испытания центробежного насоса.
9		Испытание нерегулируемого объемного насоса.

5.4 Практические занятия не предусмотрены

6. Самостоятельная работа студентов по дисциплине

6.1 Вопросы для самостоятельного изучения

Таблица 5

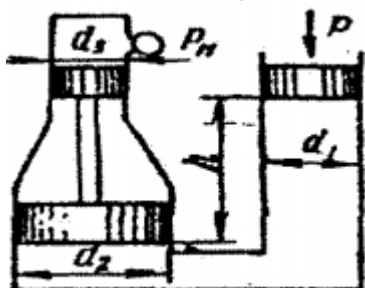
№ п/п	Темы для РГР
1	Закон Архимеда. Плавание тел.
2	Гидростатические машины
3	Приборы для измерения давления. Сообщающиеся сосуды.
4	Давление жидкости на плоские стенки. Центр давления. Эпюры гидростатического давления.
5	Местные потери напора при больших числах Рейнольдса.
6	Истечение через насадки различного типа Истечение при переменном напоре.
7	Установившееся и неустановившееся движение жидкости в напорных трубопроводах.
8	Гидравлический расчет трубопроводов. Длинные трубопроводы.
9	Основы теории подобия насосов. Основные параметры насосов Лопастные насосы. Явление кавитации. Коэффициент быстроходности. Типы лопастных

	насосов. Применение формул подобия для пересчета характеристик насосов.
10	Устройство, классификация, рабочий процесс, основные параметры и уравнения гидротрансформаторов.
11	Объемные насосы. Принцип действия, общие свойства и классификация. Поршневые и плунжерные насосы.
12	Назначение принцип действия и характеристики. Гидроаккумуляторы. Фильтры.

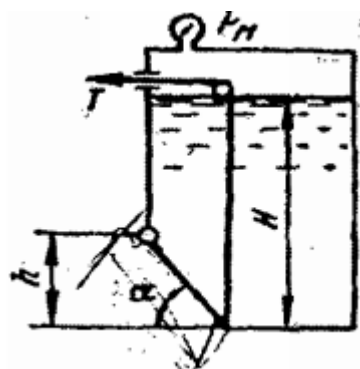
Самостоятельная работа студентов включает проработку тем, включенных в рабочую программу, а также самоконтроль знаний по темам с помощью нижеперечисленных заданий.

Работа выполняется в виде расчетно-графической (РГР).

Задача 1. Определить манометрическое давление P_m в верхней части одного из сообщающихся сосудов, наполненных водой, под действием силы P , приложенной к поршню правого сосуда (см. рис.). Исходные данные: $P = 400$ кН, $d_1 = 250$ мм, $d_2 = 400$ мм, $d_3 = 150$ мм, $h = 0,9$ м.



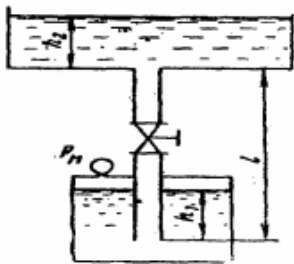
Задача 2. Поворотный клапан закрывает выход из бензохранилища в трубу квадратного сечения (см. рис.). Определить, какую силу T нужно приложить к тросу для открытия клапана при следующих данных: $h = 0,4$ м, $H = 1,1$ м, $\alpha = 30^\circ$; объемный вес бензина $\rho_v = 700$ кг/м³; манометрическое давление паров бензина в резервуаре $P_m = 5$ кПа



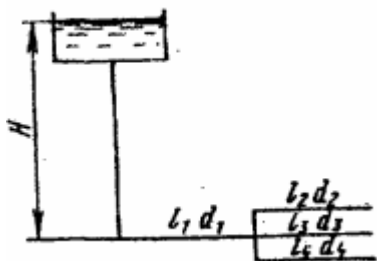
Задача 3. На поршень одного из сообщающихся сосудов, наполненных водой, действует сила P_1 0,70 кН. Какую силу P_2 нужно приложить ко второму поршню, чтобы уровень воды под ним был $h = 0,7$ м выше уровня воды под первым поршнем? Диаметр первого поршня $d_1 = 20$ мм, второго $d_2 = 300$ мм.

Задача 4. По сифонному трубопроводу длиной $l = 40$ м и диаметром $d = 100$ мм нужно обеспечить расход бензина $Q = 16$ л/с. Определить разность уровней H , если длина трубопровода $l_1 = 20$ м, ее возвышение над верхним резервуаром $h = 2$ м. Коэффициент сопротивления сетки $\xi_c = 6$, задвижки $\xi_z = 3$. Коэффициент сопротивления трения $\lambda = 0,025$. Объемный вес бензина $\rho_v = 750$ кг/м³

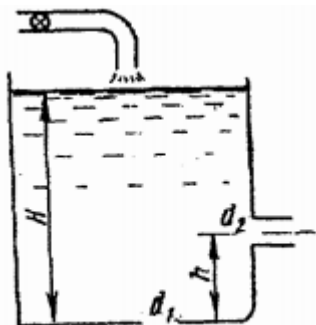
Задача 5. Вода подается из нижнего закрытого бака в верхний открытый бак по вертикальной трубе за счет избыточного давления в нижнем баке $p_m = 70$ кПа (см. рис.). Определить расход воды Q при следующих данных: $d = 125$ мм, $l = 3,5$ м, $h_1 = h_2$. Коэффициент сопротивления трения определить по эквивалентной шероховатости $\Delta = 0,2$ мм, предполагая наличие квадратичной зоны сопротивления. Коэффициенты местных сопротивлений: входа в трубу $\xi_{вх} = 0,5$; вентиля $\xi_{вент} = 4,5$; выхода из трубы $\xi_{вых} = 1,0$.



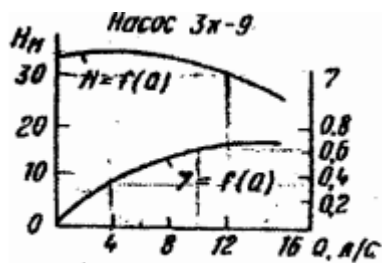
Задача 6. Определить общий расход воды Q , поступивший по системе труб под напором $H = 4,64$ м. Диаметры труб $d_1 = 150$ мм, $d_2 = d_3 = d_4 = 100$ мм. Длины труб $l_1 = 120$ м; $l_2 = l_3 = l_4 = 60$ м. Воспользоваться значениями расходных характеристик для новых водопроводных труб: $k_1 = 61,4$ л/с, $k_2 = k_3 = k_4 = 110$ л/с.



Задача 7. В баке, имеющем в дне отверстие диаметром $d_1 = 100$ мм и в стенке отверстие, снабженное цилиндрическим насадком, диаметром $d_2 = 75$ мм; установился уровень воды на высоте $H = 1,8$ м (см. рис.). Определить, какой расход воды Q поступает в бак, если центр бокового отверстия возвышается над дном бака на высоту $h = 0,4$ м.



Задача 8. Определить мощность на валу центробежного, подающего воду по трубопроводу длиной $l = 1400$ м и диаметром $d = 150$ мм, высота подъема воды $H_T = 10$ м, свободный мотор $h_{св} = 15$ м. Коэффициент сопротивления трения трубопровода $\lambda = 0,025$.



6.2 Учебно - методическое обеспечение для самостоятельной работы

1. Кузнецов В.А. Основы гидрогазодинамики [Электронный ресурс]: учебное пособие/ Кузнецов В.А.— Электрон. текстовые данные.— Белгород: Белгородский государственный технологический университет им. В.Г. Шухова, ЭБС АСВ, 2012.— 108 с.— Режим доступа: <http://www.iprbookshop.ru/28374.html>.— ЭБС «IPRbooks»
2. Андрижиевский А.А. Механика жидкости и газа [Электронный ресурс]: учебное пособие/ Андрижиевский А.А.— Электрон. текстовые данные.— Минск: Высшая школа, 2014.— 207 с.— Режим доступа: <http://www.iprbookshop.ru/35498.html>.— ЭБС «IPRbooks»
3. Исаев Х.А. Решение типовых задач по гидравлике (гидростатика). Метод реком. Изд. ГГНИ 2008 г
4. Исаев Х.А. Решение типовых задач по гидродинамике. Метод реком. Изд. ГГНИ 2007 г.
5. Магомадова М.Х. Исаев Х.А. Методические указания к выполнению контрольных работ по дисциплине «Гидравлика».

7. Оценочные средства

7.1 Вопросы к первой рубежной аттестации

1. Реальные и идеальные жидкости, основные понятия и определения.
2. Физические свойства жидкостей. Плотность, удельный вес, объем, удельный объем.
3. Сжимаемость жидкости, Коэффициент объемного сжатия, температурного расширения. Упругость паров жидкости.
4. Поверхностное натяжение. Формула Лапласа.
5. Гидростатика. Гидростатическое давление (среднее, истинное). Единицы измерения давления. Поясните, что такое абсолютное и избыточное гидростатическое давление и какова связь между ними?
6. Гидростатическое давление и его свойства? Объясните, что понимают под терминами: «внешнее давление» и «весовое давление»? Что такое техническая и физическая атмосфера в каких единицах выражается.
7. Основное уравнение гидростатики. Напишите и поясните основное уравнение гидростатики. Сформулируйте закон Паскаля.
8. Уравнение Эйлера.
9. Сообщающиеся сосуды. Определение уровня жидкости в сосуде. Определение плотности жидкости в сообщающихся сосудах. Определение давления на поверхности жидкости в сообщающихся сосудах.
10. Назовите приборы для измерения избыточного гидростатического давления и поясните принцип их действия, основные формулы. Поясните, что такое пьезометрическая высота? Приборы для измерения давления. Принцип действия пьезометра, на чем основан. Определение давления жидкости в пьезометре.
11. Определение глубины погружения точки и ее параметры. Гидростатические машины. Принцип действия основные формулы.
12. Давление жидкости на стенки труб. Разрывающие усилия (труба, резервуар).
13. Какие приборы для измерения давления Вам известны?
14. Чем отличается по назначению пьезометр от ртутного манометра?

15. Что называют относительным покоем жидкости?
16. Что называют поверхностями равного давления?
17. Сформулируйте закон Архимеда.
18. Принцип работы гидравлического пресса.
КПД гидравлического пресса.
19. По какой формуле определяется сила давления жидкости на плоские горизонтальные площадки?
20. По какой формуле определяется сила давления жидкости на плоские наклонные стенки. Центр давления.
21. По какой формуле определяется сила давления жидкости на криволинейную поверхность?
22. Что называют телом давления?

Примерный билет к первой рубежной аттестации

ГРОЗНЕНСКИЙ ГОСУДАРСТВЕННЫЙ НЕФТЯНОЙ ТЕХНИЧЕСКИЙ УНИВЕРСИТЕТ ИМЕНИ АКАДЕМИКА М.Д. МИЛЛИОНЩИКОВА КАФЕДРА "ТЕПЛОТЕХНИКА И ГИДРАВЛИКА"	
Дисциплина	<u>Гидравлика</u>
Группа	НТ -20, НТС-20
Карточка № 1	
1. Гидростатика. Гидростатическое давление (среднее, истинное) его единицы измерения	
2. Упругость паров жидкости. Поверхностное натяжение. Формула Лапласа.	
3. Определение глубины погружения точки и ее параметры.	
Зав. кафедрой «Т и Г», доцент	Р.А-В. Турлуев
20.06.20	

7.3 Вопросы ко второй рубежной аттестации

1. Основы гидродинамики. Гидростатические элементы потока (смоченный периметр, напорное движение, гидравлический радиус).
2. Схема движения жидкости. Элементарная струйка. Линия тока.
3. Установившееся и неустановившееся движение жидкости. Средняя скорость потока. Расход жидкости. Уравнение расхода для элементарной струйки, потока.
4. Уравнение неразрывности.
5. Вывод уравнения Бернулли. Уравнение Бернулли для элементарной струйки реальной жидкости. Геометрический и энергетический смысл слагаемых уравнения Д. Бернулли.
6. Как называется коэффициент α , входящий в уравнение Д. Бернулли для потока реальной жидкости, что он учитывает и от чего зависит его величина?
7. Объясните, что обусловлены потери полного напора и каков их энергетический смысл? Поясните, что понимают под термином "удельная энергия"?
8. Объясните термины "местная скорость" и "средняя скорость" и укажите, как определяют эти скорости?
9. Скоростная трубка и трубка Пито?
10. Поясните, что такое линия полного напора и пьезометрическая линия, что будут представлять собой эти линии при равномерном движении реальной жидкости?
Что понимают под термином «живое сечение потока жидкости»?
11. Назовите режимы движения жидкости и укажите их характерные особенности.

Поясните, что такое критерий Рейнольдса, и назовите факторы, от которых он зависит.

Поясните, что такое критическое число Рейнольдса?

12. Поясните, каким образом при гидравлических расчётах определяют режим движения жидкости и, с какой целью? Поясните, что такое критическая скорость, от каких факторов она зависит и как её определяют? Напишите и поясните аналитические зависимости потерь напора по длине от средней скорости потока при ламинарном и турбулентном режимах движения жидкости.

13. Напишите и поясните формулы Дарси-Вейсбаха и Вейсбаха. Поясните, как опытным путем определяют величины коэффициентов λ и ξ . Что характеризуют коэффициенты λ и ξ от каких факторов в общем случае они зависят и как их определяют при гидравлических расчетах?

14. Объясните, что такое Δz и $\Delta z/d$, как найти величину Δz при гидравлических расчетах.

Назовите области гидравлического сопротивления трубопроводов и объясните, как определяют область сопротивления при гидравлических расчетах.

15. Изобразите схемы движения жидкости при резком повороте трубы на 90° , а также при резком расширении и резком сужении трубопровода и дайте пояснения к ним, указав, что характерно для движения потока при протекании его через любое местное сопротивление.

16. Что понимают под малым отверстием в тонкой стенке при истечении жидкости из отверстий? Сжатое сечение, причины сжатия струи, чем оценивают величину сжатия струи?

17. Что называют насадкой, типы насадок, их назначение? Коэффициент скорости. Что он учитывает, как определяется? Коэффициент расхода. Что он учитывает, как определяется?

Коэффициент сопротивления (отверстия, насадка). Как он определяется по опытным данным? Объясните, почему при истечении из насадок расход жидкости больше, чем при истечении из малого круглого отверстия в тонкой стенке?

18. Напишите и поясните формулы для определения скорости и расхода при истечении жидкости из отверстий и насадок в атмосферу при постоянном напоре.

19. Изобразите и поясните схемы истечения жидкости из малого отверстия в тонкой стенке и через внешний цилиндрический насадок в атмосферу.

20. Измерение расходов и скоростей жидкости (объемный и весовой способ). Расходомер Вентури, принцип действия.

21. Гидравлические сопротивления. Вязкость жидкости. Законы внутреннего трения.

22. Режимы движения жидкости (ламинарный, турбулентный).

Сформулируйте понятия гидравлического удара.

23. Прямой и непрямой гидравлический удар. Что такое фаза удара?

Объясните процесс изменения давления в трубопроводе, питаемом из резервуара, при прямом гидравлическом ударе.

24. Напишите и поясните формулу Н. Е. Жуковского для определения повышения давления при ударе. Напишите и поясните формулу для определения скорости распространения ударной волны.

25. Назовите технические показатели насоса. Что такое напор насоса и как его определить по показаниям приборов? Что такое мощность насоса и полезная мощность?

26. Что такое КПД насоса? Какие потери учитывает КПД насоса и его связь с другими КПД? Что называется характеристикой насоса? Что называется полем насоса $Q-H$ и связь его с КПД насоса?

27. Как изменяются подача, напор и мощность насоса при изменении частоты вращения рабочего колеса?

28. Что такое кавитация, каковы её внешние признаки? Что называется кавитационным запасом Δh и как его определить при испытаниях?

29. Что называется критическим кавитационным запасом $\Delta h_{кр}$? Что называется допускаемым кавитационным запасом $\Delta h_{доп}$? Формула Руднева для определения критического кавитационного запаса?

30. Что такое высота всасывания и как она связана с кавитацией? Что называется кавитационной характеристикой и как она изображается графически? Что называется частной кавитационной характеристикой и как её получить при испытаниях?

31. Что называется объемным насосом, какие вы знаете объемные насосы? Что называется характеристикой объемного насоса? Изобразите характеристику этого насоса.

32. Назовите и поясните основные технические показатели объемных насосов. Что называется напорной характеристикой объемного нерегулируемого насоса, каково её графическое изображение?
33. Что такое коэффициент утечек насоса и как он связан с объемным коэффициентом полезного действия?
34. Напишите и поясните уравнение напорной характеристики объемного насоса. Как определить мощность приводного двигателя объемного насоса по его параметрам.
35. Какие насосы называются роторными радиально-поршневыми, основные сведения о них? Изложите основные сведения о роторных аксиально-поршневых насосах?

Примерный билет ко второй рубежной аттестации

ГРОЗНЕНСКИЙ ГОСУДАРСТВЕННЫЙ НЕФТЯНОЙ ТЕХНИЧЕСКИЙ УНИВЕРСИТЕТ ИМЕНИ АКАДЕМИКА М.Д. МИЛЛИОНЩИКОВА КАФЕДРА "ТЕПЛОТЕХНИКА И ГИДРАВЛИКА"	
Дисциплина	<u>Гидравлика</u>
Группа	НТ -20, НТС-20
Карточка № 1	
1. Основы гидродинамики. Гидростатические элементы потока (смоченный периметр, напорное движение, гидравлический радиус).	
2. Схема движения жидкости. Элементарная струйка. Линия тока.	
3. Установившееся и неустановившееся движение жидкости. Средняя скорость потока. Расход жидкости. Уравнение расхода для элементарной струйки, потока.	
Зав. кафедрой «Т и Г», доцент	Р.А-В. Турлуев
20.06.20	

7.5 Вопросы к зачету по дисциплине «Гидравлика»

Реальные и идеальные жидкости, основные понятия и определения.	ПК-1
Физические свойства жидкостей. Плотность, удельный вес, объем, удельный объем.	
Сжимаемость жидкости, Коэффициент объемного сжатия, температурного расширения.	
Упругость паров жидкости.	
Поверхностное натяжение. Формула Лапласа.	ПК-1
Гидростатика. Гидростатическое давление (среднее, истинное). Единицы измерения давления. Поясните, что такое абсолютное и избыточное гидростатическое давление и какова связь между ними?	
Гидростатическое давление и его свойства? Объясните, что понимают под терминами: «внешнее давление» и «весовое давление»? Что такое техническая и физическая атмосфера в каких единицах выражается.	
Основное уравнение гидростатики. Напишите и поясните основное уравнение гидростатики. Сформулируйте закон Паскаля.	
Уравнение Эйлера.	ПК-19
Сообщающиеся сосуды. Определение уровня жидкости в сосуде. Определение плотности жидкости в сообщающихся сосудах. Определение давления на	

поверхности жидкости в сообщающихся сосудах.	
Назовите приборы для измерения избыточного гидростатического давления и поясните принцип их действия, основные формулы. Поясните, что такое пьезометрическая высота? Приборы для измерения давления. Принцип действия пьезометра, на чем основан. Определение давления жидкости в пьезометре.	
Определение глубины погружения точки и ее параметры.	
Гидростатические машины. Принцип действия основные формулы.	
Давление жидкости на стенки труб. Разрывающие усилия (труба, резервуар).	ПК-19
Какие приборы для измерения давления Вам известны?	
Чем отличается по назначению пьезометр от ртутного манометра?	
Что называют относительным покоем жидкости?	
Что называют поверхностями равного давления?	
Сформулируйте закон Архимеда.	
Принцип работы гидравлического пресса. КПД гидравлического пресса.	
По какой формуле определяется сила давления жидкости на плоские горизонтальные площадки?	
По какой формуле определяется сила давления жидкости на плоские наклонные стенки. Центр давления.	ПК-1
По какой формуле определяется сила давления жидкости на криволинейную поверхность?	
Что называют телом давления?	
Основы гидродинамики. Гидростатические элементы потока (смоченный периметр, напорное движение, гидравлический радиус).	
Схема движения жидкости. Элементарная струйка. Линия тока.	
Установившееся и неустановившееся движение жидкости. Средняя скорость потока. Расход жидкости. Уравнение расхода для элементарной струйки, потока.	ПК-1
Уравнение неразрывности.	
Вывод уравнения Бернулли. Уравнение Бернулли для элементарной струйки реальной жидкости. Геометрический и энергетический смысл слагаемых уравнения Д. Бернулли.	
Как называется коэффициент α , входящий в уравнение Д. Бернулли для потока реальной жидкости, что он учитывает и от чего зависит его величина?	
Объясните, что обусловлены потери полного напора и каков их энергетический смысл? Поясните, что понимают под термином "удельная энергия"?	
Объясните термины "местная скорость" и "средняя скорость" и укажите, как определяют эти скорости?	ПК-19
Скоростная трубка и трубка Пито?	
Поясните, что такое линия полного напора и пьезометрическая линия, что будут представлять собой эти линии при равномерном движении реальной жидкости?	
Что понимают под термином «живое сечение потока жидкости»?	
Назовите режимы движения жидкости и укажите их характерные особенности.	
Поясните, что такое критерий Рейнольдса, и назовите факторы, от которых он зависит	
Напишите и поясните формулы Дарси-Вейсбаха и Вейсбаха. Поясните, как опытным путем определяют величины коэффициентов λ и ξ . Что характеризуют коэффициенты λ и ξ от каких факторов в общем случае они зависят и как их определяют при гидравлических расчетах?	ПК-1
Объясните, что такое Δz и $\Delta z/d$, как найти величину Δz при гидравлических расчетах.	
Назовите области гидравлического сопротивления трубопроводов и объясните, как определяют область сопротивления при гидравлических расчетах.	
Изобразите схемы движения жидкости при резком повороте трубы на 90° , а также при резком расширении и резком сужении трубопровода и дайте пояснения к ним, указав, что характерно для движения потока при протекании его через любое	

местное сопротивление.	
Что понимают под малым отверстием в тонкой стенке при истечении жидкости из отверстий? Сжатое сечение, причины сжатия струи, чем оценивают величину сжатия струи?	
Что называют насадкой, типы насадок, их назначение? Коэффициент скорости. Что он учитывает, как определяется? Коэффициент расхода. Что он учитывает, как определяется?	
Коэффициент сопротивления (отверстия, насадка). Как он определяется по опытным данным? Объясните, почему при истечении из насадок расход жидкости больше, чем при истечении из малого круглого отверстия в тонкой стенке?	
Напишите и поясните формулы для определения скорости и расхода при истечении жидкости из отверстий и насадок в атмосферу при постоянном напоре.	ПК-19
Изобразите и поясните схемы истечения жидкости из малого отверстия в тонкой стенке и через внешний цилиндрический насадок в атмосферу.	
Напишите и поясните формулу Н. Е. Жуковского для определения повышения давления при ударе. Напишите и поясните формулу для определения скорости распространения ударной волны. Назовите технические показатели насоса. Что такое напор насоса и как его определить по показаниям приборов? Что такое мощность насоса и полезная мощность?	
Что такое КПД насоса? Какие потери учитывает КПД насоса и его связь с другими КПД? Что называется характеристикой насоса? Что называется полем насоса Q-H и связь его с КПД насоса?	
Как изменяются подача, напор и мощность насоса при изменении частоты вращения рабочего колеса?	
Что такое кавитация, каковы её внешние признаки? Что называется кавитационным запасом Δh и как его определить при испытаниях?	
Что называется критическим кавитационным запасом $\Delta h_{кр}$? Что называется допускаемым кавитационным запасом $\Delta h_{доп}$? Формула Руднева для определения критического кавитационного запаса?	
Что такое высота всасывания и как она связана с кавитацией? Что называется кавитационной характеристикой и как она изображается графически? Что называется частной кавитационной характеристикой и как её получить при испытаниях?	ПК-1

Примерный билет к экзамену по дисциплине «Гидравлика»

ГРОЗНЕНСКИЙ ГОСУДАРСТВЕННЫЙ НЕФТЯНОЙ ТЕХНИЧЕСКИЙ УНИВЕРСИТЕТ ИМЕНИ АКАДЕМИКА М.Д. МИЛЛИОНЩИКОВА КАФЕДРА "ТЕПЛОТЕХНИКА И ГИДРАВЛИКА"	
Дисциплина	<u>Гидравлика</u>
Группа	НТ -20, НТС -20
Билет № 1	
1. Реальные и идеальные жидкости, основные понятия и определения.	
Поток жидкости. Средняя скорость. Уравнение расхода. Дифференциальное уравнение движения идеальной жидкости. Уравнение неразрывности.	
2. Гидравлические потери. Каким образом при гидравлических расчётах определяют режим движения жидкости и, с какой целью?	

3. Гидравлический удар.	
Зав. кафедрой «Т и Г», доцент	Р.А-В. Турлуев
20.06.20	

7.6 Текущий контроль

Вопросы к лабораторной работе №1:

1. Что такое гидростатическое давление и каковы его свойства?
2. Поясните, что такое абсолютное и избыточное гидростатическое давление и какова связь между ними?
3. Объясните, что понимают под терминами: «внешнее давление» и «весовое давление»?
4. Напишите и поясните основное уравнение гидростатики.
5. Сформулируйте закон Паскаля.
6. Назовите приборы для измерения избыточного гидростатического давления и поясните принцип их действия.
7. Поясните, что такое пьезометрическая высота?
- 8.

Вопросы к лабораторной работе №2:

1. Поясните геометрический смысл слагаемых уравнения Д. Бернулли.
2. Поясните энергетический смысл слагаемых уравнения Д. Бернулли.
3. Как называется коэффициент α , входящий в уравнение Д. Бернулли для потока реальной жидкости, что он учитывает и от чего зависит его величина?
4. Объясните, что обусловлены потери полного напора и каков их энергетический смысл?
5. Поясните, что такое скоростная трубка и трубка Пито?
6. Что понимают под термином «живое сечение потока жидкости»?

Вопросы к лабораторной работе №3:

1. Назовите режимы движения жидкости и укажите их характерные особенности.
2. Поясните, что такое критерий Рейнольдса, и назовите факторы, от которых он зависит.
3. Поясните, что такое критическое число Рейнольдса?
4. Поясните, каким образом при гидравлических расчётах определяют режим движения жидкости и, с какой целью?
5. Поясните, что такое критическая скорость, от каких факторов она зависит и как её определяют?

Вопросы к лабораторной работе №4:

1. Напишите и поясните формулы Дарси-Вейсбаха и Вейсбаха.
2. Поясните, как опытным путем определяют величины коэффициентов λ и ξ .
3. Что характеризуют коэффициенты λ и ξ от каких факторов в общем случае они зависят и как их определяют при гидравлических расчетах?
4. Объясните, что такое Δ_z и Δ_z/d , как найти величину Δ_z при гидравлических расчетах.
5. Назовите области гидравлического сопротивления трубопроводов и объясните, как определяют область сопротивления при гидравлических расчетах.

Вопросы к лабораторной работе №5:

1. Что понимают под малым отверстием в тонкой стенке при истечении жидкости из отверстий?
2. Сжатое сечение, причины сжатия струи, чем оценивают величину сжатия струи?
3. Что называют насадкой, типы насадок, их назначение?
4. Коэффициент скорости. Что он учитывает, как определяется?
5. Коэффициент расхода. Что он учитывает, как определяется?
6. Коэффициент сопротивления (отверстия, насадка). Как он определяется по опытным данным?

Вопросы к лабораторной работе №6:

1. Сформулируйте понятия гидравлического удара.
2. Прямой и непрямой гидравлический удар.
2. Что такое фаза удара?
3. Объясните процесс изменения давления в трубопроводе, питаемом из резервуара, при прямом гидравлическом ударе.
4. Напишите и поясните формулу Н. Е. Журавского для определения повышения давления при ударе.
5. Напишите и поясните формулу для определения скорости распространения ударной волны.

8. Учебно-методическое и информационное обеспечение дисциплины

а) основная литература

6. Кузнецов В.А. Основы гидрогазодинамики [Электронный ресурс]: учебное пособие/ Кузнецов В.А.— Электрон. текстовые данные.— Белгород: Белгородский государственный технологический университет им. В.Г. Шухова, ЭБС АСВ, 2012.— 108 с.— Режим доступа: <http://www.iprbookshop.ru/28374.html>.— ЭБС «IPRbooks»
7. Андрижиевский А.А. Механика жидкости и газа [Электронный ресурс]: учебное пособие/ Андрижиевский А.А.— Электрон. текстовые данные.— Минск: Вышэйшая школа, 2014.— 207 с.— Режим доступа: <http://www.iprbookshop.ru/35498.html>.— ЭБС «IPRbooks»
8. Механика жидкости и газа [Электронный ресурс]: методические указания/ — Электрон. текстовые данные.— СПб.: Санкт-Петербургский государственный архитектурно-строительный университет, ЭБС АСВ, 2013.— 31 с.— Режим доступа: <http://www.iprbookshop.ru/26873.html>.— ЭБС «IPRbooks»
9. Савиновских А.Г. Гидравлика [Электронный ресурс]: учебное пособие для СПО/ Савиновских А.Г., Коробейникова И.Ю., Новикова Д.А.— Электрон. текстовые данные.— Саратов: Профобразование, 2019.— 168 с.— Режим доступа: <http://www.iprbookshop.ru/86069.html>.— ЭБС «IPRbooks»
10. Карелин В.С., Турлуев Р.А-В., Исаев Х.А. Измерение гидростатического давления и экспериментальное подтверждение закона Паскаля.- Метод. указ. к лаб. работе Изд. ГГНИ 2009 г.
11. Исаев Х.А. Решение типовых задач по гидравлике (гидростатика). Метод реком. Изд. ГГНИ 2008 г
12. Исаев Х.А. Решение типовых задач по гидродинамике. Метод реком. Изд. ГГНИ 2007 г.
13. Исаев Х.А., Магомадова М.Х. Гидродинамика Курс лекций.- Изд. ГГНИ 2010 г.

б) дополнительная литература

1. Айвазян О.М. Основы гидравлики бурных потоков [Электронный ресурс]/ Айвазян О.М.— Электрон. текстовые данные.— Москва, Ижевск: Регулярная и хаотическая динамика, Ижевский институт компьютерных исследований, 2010.— 266 с.— Режим доступа: <http://www.iprbookshop.ru/16585.html>.— ЭБС «IPRbooks»
2. Зуйков А.Л. Гидравлика. Том 2. Напорные и открытые потоки. Гидравлика сооружений [Электронный ресурс]: учебник/ Зуйков А.Л., Волгина Л.В.— Электрон. текстовые данные.— Москва: МИСИ-МГСУ, ЭБС АСВ, 2018.— 400 с.— Режим доступа: <http://www.iprbookshop.ru/86298.html>.— ЭБС «IPRbooks»
3. Савиновских А.Г. Гидравлика [Электронный ресурс]: учебное пособие для СПО/ Савиновских А.Г., Коробейникова И.Ю., Новикова Д.А.— Электрон. текстовые данные.—

Саратов: Профобразование, 2019.— 168 с.— Режим доступа:
<http://www.iprbookshop.ru/86069.html>.— ЭБС «IPRbooks»

4. Глухов В.С. Основы гидравлики и теплотехники: Раздел 1. Основы гидравлики [Электронный ресурс]: учебное пособие/ Глухов В.С., Дикой А.А., Дикая И.В.— Электрон. текстовые данные.— Армавир: Армавирский государственный педагогический университет, 2019.— 252 с.— Режим доступа: <http://www.iprbookshop.ru/82446.html>.— ЭБС «IPRbooks»
5. Исаев Х.А. Решение типовых задач по гидравлике (гидростатика). Метод реком. Изд. ГГНИ 2008 г
6. Исаев Х.А. Решение типовых задач по гидродинамике. Метод реком. Изд. ГГНИ 2007 г.
7. Исаев Х.А., Магомадова М.Х. Гидродинамика Курс лекций.- Изд. ГГНИ 2010 г.
8. Мадаева М.З. Магомадова М.Х. Поршневые и центробежные насосы. Примеры расчета.Метод реком. Изд. ГГНИ 2007 г.
9. Магомадова М.Х. Исаев Х.А.Методические указания к выполнению контрольных работ по дисциплине «Гидравлика».
10. Карелин В.С. Турлуев Р.А-В Определение опытным путем слагаемых уравнения Д. БернуллиМетод. указ. к лаб. работе. Изд. ГГНИ 2010 г.

в) программное и коммуникационное обеспечение

1. Электронный конспект лекций и электронно-обучающий комплекс по дисциплине «Гидравлика и гидравлические машины».
2. Тесты для компьютерного тестирования студентов

г). Интернет ресурсы: Интернет ресурс - www.gstou.ru электронная библиотека ЭБС «IPRbooks», «Консультант студента»

Гидрогазодинамика

[borisov.3dn.ru>_ld/0/10_2-Gydravlika-Le.pdf](http://borisov.3dn.ru/_ld/0/10_2-Gydravlika-Le.pdf)
:
[forest-college.ru>files/uchebn-mat-1/tehnich ...](http://forest-college.ru/files/uchebn-mat-1/tehnich...)
:
[firing-hydra.ru>index.php...](http://firing-hydra.ru/index.php...)
:
[twirpx.com>file/189316/](http://twirpx.com/file/189316/)
:
[gidravlika.3dn.ru>index/kurs_lekcij/0-4](http://gidravlika.3dn.ru/index/kurs_lekcij/0-4)
:
[hydro133.narod.ru>lecture/og_lec_04.pdf](http://hydro133.narod.ru/lecture/og_lec_04.pdf)
:
[shporgaloshka.ucoz.ru>gidravlika-konspekt ...](http://shporgaloshka.ucoz.ru/gidravlika-konspekt...)
:
[borisov.3dn.ru>_ld/0/10_2-Gydravlika-Le.pdf](http://borisov.3dn.ru/_ld/0/10_2-Gydravlika-Le.pdf)
:
[allformgsu.ru>Каталогфайлов>Лекция_по_гидравлике](http://allformgsu.ru/Каталогфайлов/Лекция_по_гидравлике)
:
[hydro133.narod.ru>lecture/og_lec_04.pdf](http://hydro133.narod.ru/lecture/og_lec_04.pdf)

9. Материально-техническое обеспечение дисциплины

1. Класс с персональными компьютерами для проведения практических занятий и виртуальных лабораторных работ.

Гидравлика (наличие оборудования и ТСО)

1.	Типовой комплект учебного оборудования: стенд гидравлический универсальный "Экспериментальная механика жидкости" ЭМЖ-09-14ЛР-01 (14 лабораторных работ)
2	Типовой комплект учебного оборудования: «Измерение давлений, расходов и температур в системах газоснабжения» ИСГ ДРТ-012-12ЛР-ПК (12 лабораторных работ)
3	Виртуальные лабораторные работы: «Лабораторный комплекс Гидравлика»; «Гидромашины и гидроприводы»; «Исследование открытого потока»; «Гидравлическое моделирование кольцевых, тупиковых, или комбинированных

	трубопроводных сетей». Программный лабораторный комплекс "Гидравлика" (45 лабораторных работ)
4	Комплекты плакатов (размер 560x800 мм):
4.1	Комплект плакатов «Гидравлика и гидропривод» 560x800 мм, 16 шт. Изображение нанесено на пластиковую основу толщиной 4 мм и размером 560x800 мм. Изображение обладает водостойкими свойствами. Каждый плакат имеет элементы крепления к стене.
5	Электронные плакаты Демонстрационные комплексы на базе мультимедиа-проектора (комплект электронных плакатов на CD, мультимедиа-проектор BENQ, ноутбук, экран 1,5x1,5 м):
5.1	Гидравлика и гидропривод (171 шт.)
	Презентации:
1	Основы прикладной гидравлики;
2	Гидравлические потери по длине трубопровода;
3	Насосы и гидроприводы
4	Лекции по разделу гидравлические машины
5	Гидроэлектрстанции

Составитель:

Доцент кафедры
«Теплотехника и гидравлика»



/М.Х. Умарова /

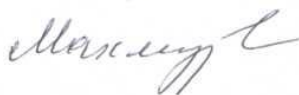
СОГЛАСОВАНО:

Зав. кафедрой
«Теплотехника и гидравлика»



/Р.А-В. Турлуев/

Зав. выпускающей кафедрой
«ХТНГ» проф.



/Л.Ш. Махмудова /

Директор ДУМР



/ М.А. Магомаева/